

Kontakt: e.biernacka@sp90.edu.gdansk.pl

i.piasecka-budzan@sp90.edu.gdansk.pl

Krajobraz nadmorski.

1/ Przeczytaj wiersze Doroty Gellner.

„WIATR NA PLAŻY”

Wiatr na plażę wpadł za nami

i rozpycha się łokciami!

Tu się wciska, tam się pcha,

woła: - Ja tu siądę! JA!

Już go pełno dookoła,

tu coś gwizdze, tam coś woła,

naszą piłkę zabrał nam.

- Patrzcie! - pisnął - w piłkę gram!

Wstażkę porwał i nie zwrócił,

gdzieś za wydumą ją porzucił,

kapelusze strąca z głów -

no, po prostu szkoda słów!




„MUSZELKI”


Muszelki są piękne! Muszelki są różne.
Spiczaste i płaskie, okrągłe, podłużne,
w kropeczki, w kreseczki tęcze lub nie -
tu śmieje się jedna, tam śmieją się dwie!
Ta z czarnym paseczkiem, ta z kropką świetlistą,
ten, kto je zbudował, był wielkim artystą!



„SZUM”

Wkoło plaża, ludzi tłum,
a mnie porwał morski szum!
Szum otulił mnie jak szal -
cała jestem w szumie fal!
Stoję sobie pośród tłumu
w pelerynie. Z czego? Z szumu!
Stoję sobie zachwycona,
no i szumię jak szalona!





2/ Przyjrzyj się ilustracji i powiedz, co składa się na krajobraz nadmorski.

3/ Jakie znasz ryby morskie i które z nich jadesz/aś?

Film na YouTube - [Ryby Skarby Bałtyku](https://www.youtube.com/watch?v=d5y31hmyL-k)

<https://www.youtube.com/watch?v=d5y31hmyL-k>



ZAPAMIĘTAJ!!!


W nazwach zawodów zakończonych na **-arz** piszemy „**rz**”,

np. żeglarz, marynarz.

Wyrazy z rz zakończone
na **-arz**, **-erz**



ORTOGRAFICZNA WYSZUKIWANKA



Znajdź i pokoloruj.



marynarz



malarz



piłkarz



kominiarz



rycerz



kucharz



żołnierz



lekarz




narciarz



łyżwiarz

1. Leon i Janek celowali do tarczy. Leon zdobył 47 punktów, a Janek o 5 punktów mniej. Ile punktów zdobył Janek? Jak to obliczyć?



$$47 - 5 = 40 + \underbrace{7 - 5} = 40 + 2 = \boxed{?}$$

40 7

2. Wykonaj obliczenia w zeszycie.

$86 - 5$

$86 - 4$

$86 - 3$

$79 - 6$

$49 - 6$

$69 - 6$

$69 - 7$

$88 - 4$

$97 - 5$

$37 - 4$

$47 - 5$

$57 - 6$

3. Rybacy wypłynęli w morze na 29 dni. Wrócili o 8 dni wcześniej. Ile dni byli na morzu? Ile to tygodni?



4. Na statku było 79 osób, w tym 4 członków załogi, a pozostałe osoby to pasażerowie. Ilu pasażerów było na statku?

5. Z każdego paska wypisz do zeszytu największą liczbę. Zapisz te liczby jeszcze raz od największej do najmniejszej.

17 4 77 83 76 38

81 45 67 55 99 89

26 61 79 91 48 53

- Po czym rozpoznasz, że liczba jest największa?