

Kontakt: e.biernacka@sp90.edu.gdansk.pl

i.piasecka-budzan@sp90.edu.gdansk.pl

Świat zwierząt - opieka nad potomstwem.

Rodzice niektórych zwierząt, np. żab, motyli, ważek czy chrabąszczy, w ogóle nie opiekują się potomstwem. Inaczej jest wśród ssaków i ptaków. Młode ssaki nie przeżyłyby bez mleka matki. Również ptaki wytrwale karmią swoje pisklęta, np. sikora przylatuje z karmą do gniazda około 350 razy w ciągu doby. Ptaki i ssaki bronią swoich młodych w razie zagrożenia. Łabędź może być niebezpieczny, gdy są przy nim młode. Bardzo niebezpieczna może być także locha – samica dzika, gdy niepokoje się o swoje warchlaki. Ptakiem, który w ogóle nie opiekuje się potomstwem, jest kukułka.



Okres, w którym zwierzęta dorastają i stają się samodzielne, to najtrudniejszy czas w życiu zwierząt. Przeżywają go tylko te najsilniejsze, którym uda się zdobyć pokarm i uciec przed drapieżnikiem.

Taki mechanizm stworzyła sama przyroda. Dzięki niemu w naturze panuje równowaga i żadnych zwierząt nie ma w nadmiarze.



2. Obejrzyj obrazek. Uzupełnij zdania podanymi wyrazami we właściwej formie.

źrebak, źródełko, pogryź, źródłana,
źrebię, koźlątko, gałąź, paź



Nad _____ stoi _____.


- Napiję się tej _____ wody.

- Stój, _____! - zawołało _____.

Ta woda jest zimna!

Lepiej _____ sobie _____!

Pobiegajmy! Tam leci _____ królowej!





Film na YouTube - [Na skraju lasu 1/2, audiodeskrypcja](https://www.youtube.com/watch?v=v8HMLdDm8Os)

<https://www.youtube.com/watch?v=v8HMLdDm8Os>



Utrwalamy znajomość dni tygodnia.

 **1** Przeczytaj, co Bratek robił wczoraj, co robi dzisiaj i co będzie robił jutro.

 **Wczoraj** byłem w Szkole Podstawowej nr 1 w Bratkowie.
Dzisiaj uczę się z wami.
Jutro będę odpoczywał.

- Uzupełnij według wzoru zdania dotyczące siebie.

Wczoraj _____

Dzisiaj _____

Jutro _____



2 Zapisz, jaki to dzień tygodnia.

Dziś jest **środa**, dwa dni temu był _____.

Dziś jest **niedziela**, trzy dni temu był _____.

Dziś jest **wtorek**, za dwa dni będzie _____.

3 Wpisz w puste okienka takie liczby, aby suma liczb w każdej kolumnie i w każdym rzędzie wynosiła 20.

3	8		5
9			3
	3	7	
2	2	8	

4	6	5	
0			8
	4		5
	0	9	2

9		7	3
	2		4
0	9		
5		1	6